



MATEMÁTICA

NOME: _____ 6º ANO

ATIVIDADE

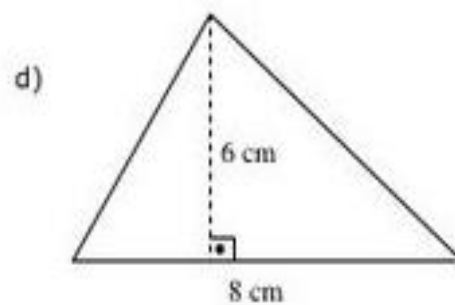
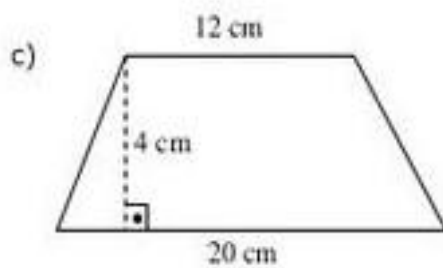
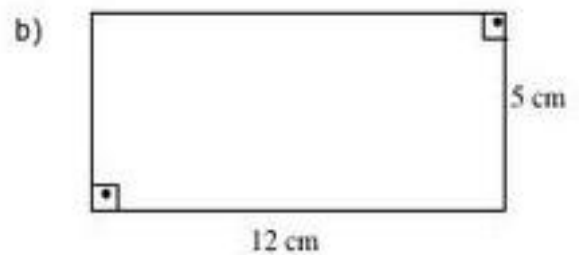
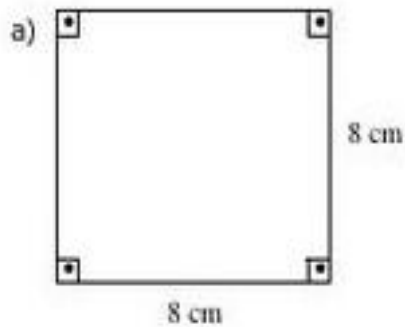
ORIENTAÇÃO PARA REALIZAÇÃO DA ATIVIDADE: ÁREA E PERÍMETRO: O aluno deverá escrever no caderno a atividade, o título da atividade, a data, o exercício e a resolução. Ler a comanda e responder no caderno.

ASSISTA OS VÍDEOS:

<https://www.youtube.com/watch?v=Mnp0M05oMec>

COPIAR E RESPONDER NO CADERNO

1. Determine a área das figuras planas abaixo:





2. Sabendo que o lado de cada quadradinho da malha quadriculada abaixo mede 1 cm, indique o perímetro (medida do contorno) de cada retângulo e a área (medida da superfície) de cada região retangular apresentada na malha.

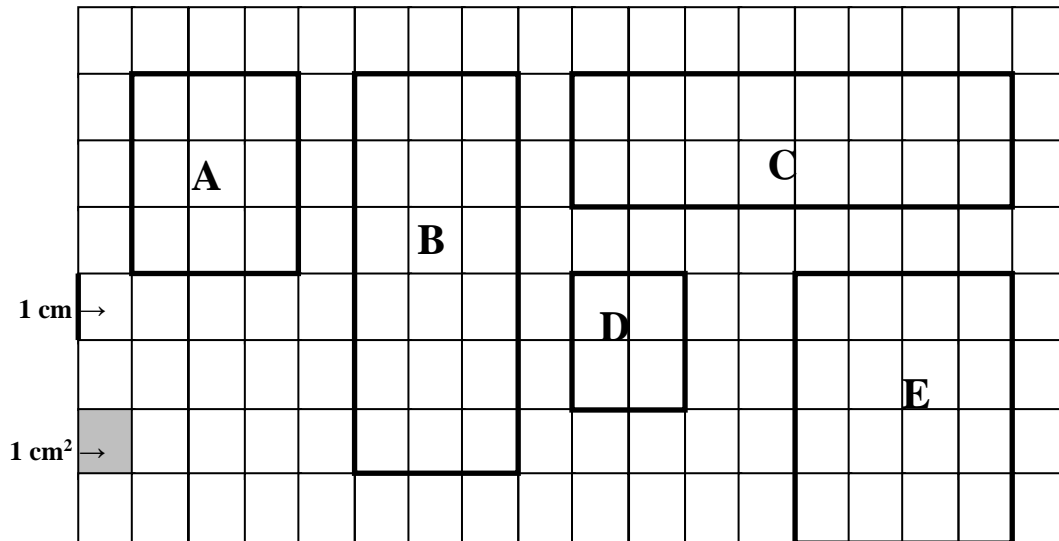


	Figura A	Figura B	Figura C	Figura D	Figura E
Perímetro (em cm)					
Área (em cm ²)					