

MATEMÁTICA

NOME: _____ 4º ANO

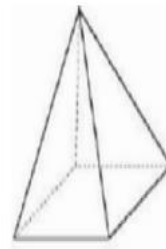
ATIVIDADE

ORIENTAÇÃO PARA REALIZAÇÃO DA ATIVIDADE: O aluno poderá escrever no caderno o título da atividade e a data. Ler a comanda e responder no caderno.




1 - Mateus utilizou uma fita métrica para medir o comprimento de sua sala de aula. Sabendo que a medida do comprimento encontrada por ele foi igual 800 cm, é correto afirmar que:

- (A) o comprimento da sala é igual a 8 metros.
- (B) o comprimento da sala é igual a 80 metros.
- (C) o comprimento da sala é igual a 800 metros.
- (D) o comprimento da sala é igual a 8 000 metros.

2 - A vela a seguir faz parte da coleção de Simone, ela possui a forma de uma pirâmide de base quadrada como mostra a imagem.



Marque a alternativa que apresenta o total das faces e a base dessa vela.

- (A) 
- (B) 
- (C) 
- (D) 