



Geografia

Ensino Fundamental

7ºAno

Nome: _____

Orientação para realização da atividade: anote as questões/ enunciados no caderno e responda, se a questão for de múltipla escolha copie apenas a resposta correta, caso haja texto faça a leitura, não precisa copiar nenhum texto.

POPULAÇÃO BRASILEIRA

Brasil é um país de proporções continentais, e a distribuição populacional se estabelece de forma desigual pelo território. Os dados mais recentes mostram que o Brasil atingiu a marca de 202 milhões de habitantes, e destes 1/5 vive em São Paulo, sendo que os estados mais populosos após este são Minas Gerais e Rio de Janeiro. De outro lado, os estados de Roraima, Amapá e Acre foram caracterizados como os menos populosos. A sociedade brasileira é formada pela diversidade dos povos, constituída ao longo dos anos pela presença de indígenas, negros africanos e brancos europeus, além de povos que se instalaram aqui posteriormente. A diversidade do povo brasileiro torna o país um espaço multicultural, pois cada povo trouxe consigo algo de sua cultura original.





Quando os portugueses chegaram ao território brasileiro, este já era ocupado por diversos grupos indígenas. Ao longo dos anos houve um extermínio dos povos indígenas no Brasil, os quais foram utilizados como mão-de-obra em diversos períodos da história do país. Apesar disso, diversos aspectos culturais materiais e imateriais dos indígenas são representativos na história do Brasil. Da mesma forma, os africanos trazidos forçadamente ao território brasileiro para exercer trabalhos escravos, também trouxeram consigo parte de sua história, a qual permanece viva por meio das representações culturais dos descendentes daqueles.

“Após a abolição da escravidão, em 1888, 13% da população brasileira era constituída por negros e 40% por mestiços.” (SILVA, 2013, p. 154)

Apesar do teórico fim da escravidão, outras formas de exclusão se perpetuaram (e ainda são manifestadas) contra os negros, como a exclusão social e econômica. Da mesma forma, os indígenas ainda são marginalizados na sociedade brasileira, e sua história e manifestações culturais são pouco valorizadas pelo restante da população.



A história do Brasil é marcada pela presença dos portugueses, e mais tarde dos italianos, espanhóis, poloneses, japoneses, alemães, dentre outros. E todos possibilitaram a formação da sociedade brasileira tal qual ela é hoje.



“Conclui-se, assim, que a sociedade brasileira se formou a partir de três grandes grupos étnicos: os indígenas, os africanos e os europeus.” (TAMDJIAN, 2012, p. 169)

1. Crescimento da população brasileira

A população brasileira, tal qual se apresenta atualmente, é fruto da dinâmica populacional ao longo dos anos, especialmente da entrada de imigrantes no país durante os séculos XIX e XX. Da mesma forma, as transformações no crescimento vegetativo a partir de 1940 também foram significativas.

“O aumento das taxas de crescimento vegetativo foi consequência das melhorias relativas às condições de saúde da população, que resultaram na redução das taxas de mortalidade.” (LUCCI, 2012, p. 107)

Com a redução da taxa de mortalidade, e as taxas de natalidade se mantendo relativamente estáveis até 1960, houve uma elevação do crescimento vegetativo. Especialmente a partir da década de 1960, com as transformações que ocorriam no Brasil naquele contexto, houve uma redução da taxa de fecundidade. Essa redução foi ocasionada pela industrialização que levou muitas famílias para os centros urbanos, bem como o aumento do uso de métodos contraceptivos, como os anticoncepcionais, e ainda a maior participação da mulher na sociedade.

A redução das taxas de fecundidade tem influenciado na constituição da população brasileira atualmente, uma vez que há um envelhecimento populacional. Esse



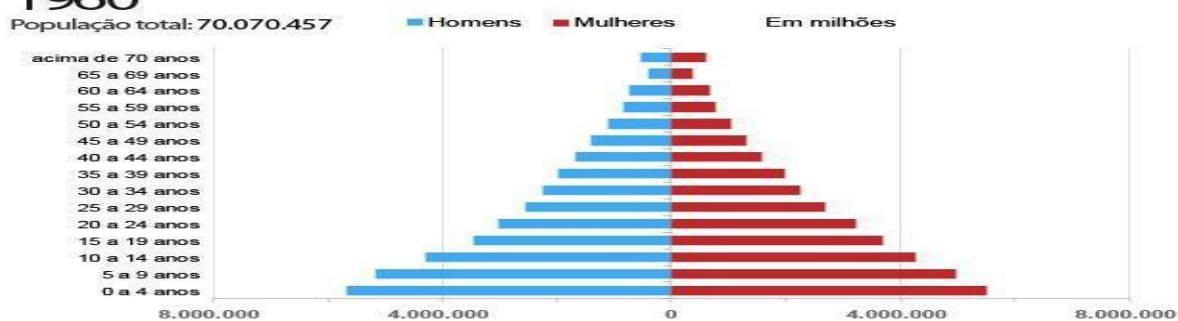
envelhecimento populacional tem diversas causas, como os investimentos na área da saúde e lazer para os idosos. Veja os gráficos abaixo:

Pirâmides etárias

Veja como a população brasileira se dividia por idades em 1960, 2000 e 2010

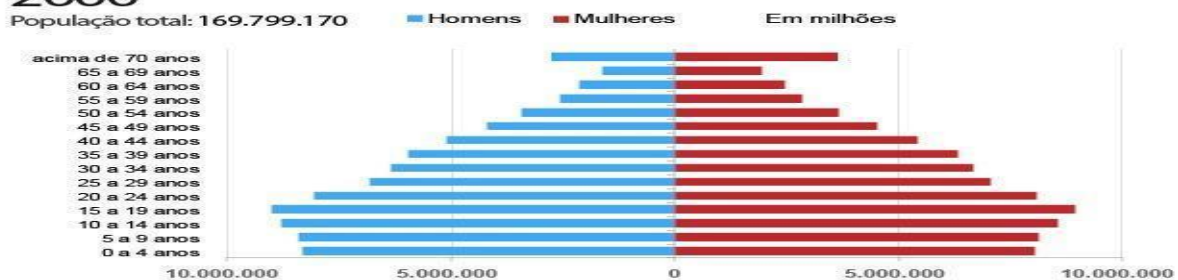
1960

População total: 70.070.457



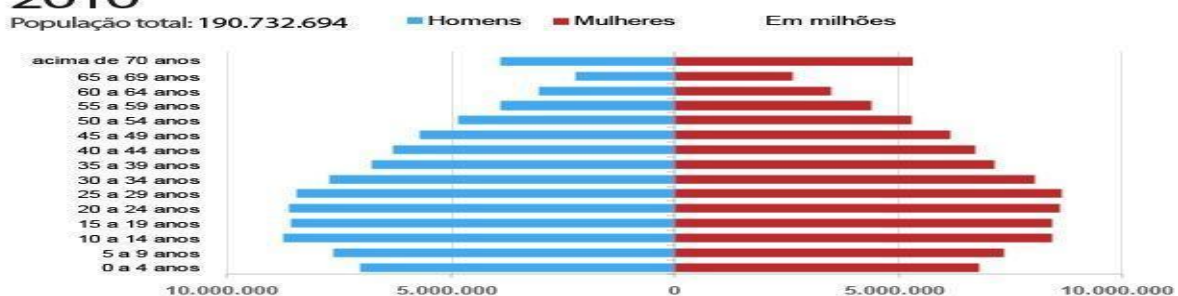
2000

População total: 169.799.170



2010

População total: 190.732.694

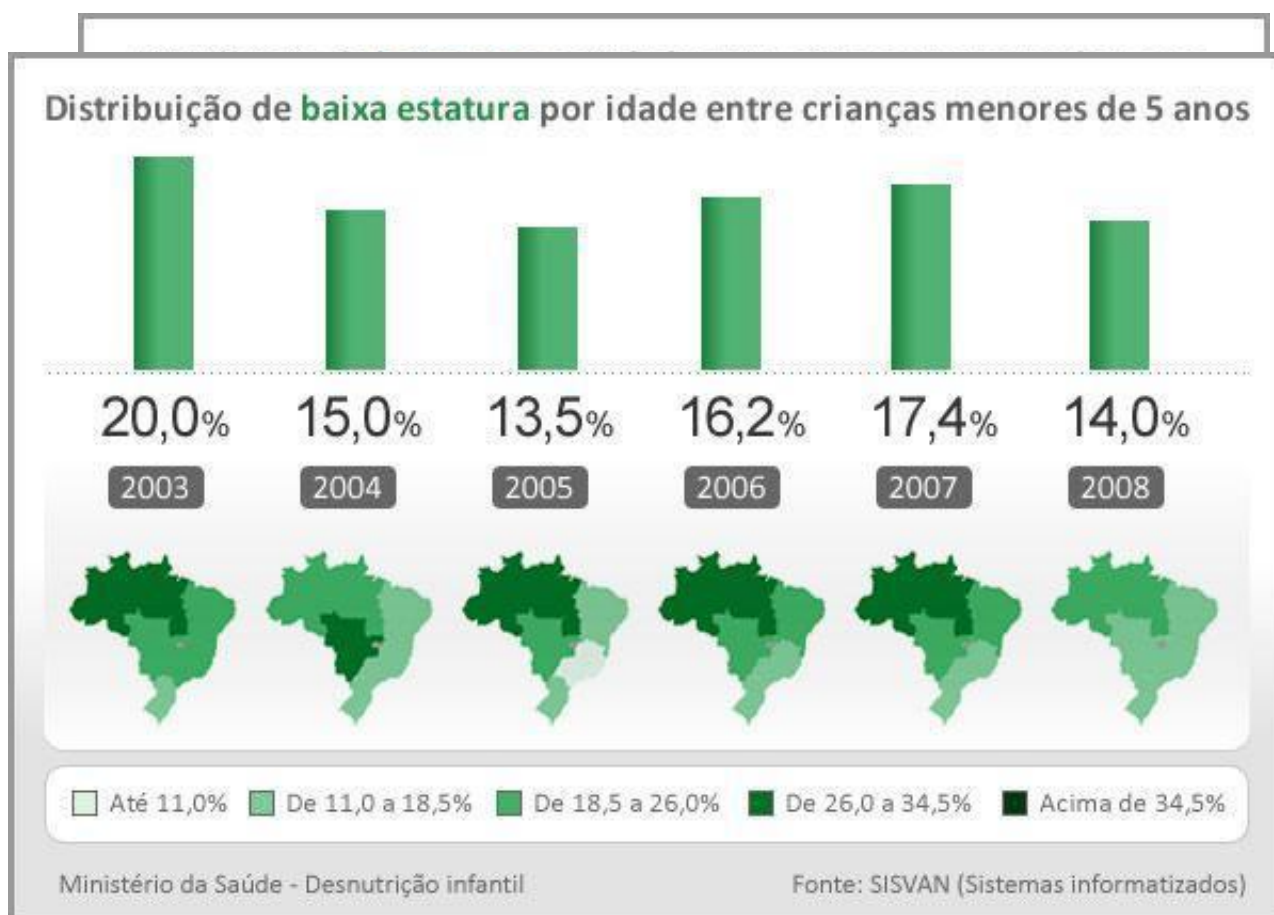


“Se a natalidade continuar a cair e a medicina avançar no sentido de prevenir doenças e prolongar a vida, continuará crescendo o número de idosos no Brasil.”

(TAMDJIAN, 2012, p. 183)



Um dos maiores problemas enfrentando pelo Brasil é relativo à desigualdade social. O país possui uma extensão territorial muito significativa, considerada continental, e mesmo assim existem muitas pessoas que ainda não têm um espaço para fixar moradia. Além disso, as terras brasileiras poderiam alimentar um enorme contingente populacional, mas são utilizadas pelos latifundiários para produção em ampla escala de produtos exportáveis, como a soja. Deste modo, ainda há pessoas subnutridas no Brasil, embora os índices tenham reduzido significativamente em décadas recentes. Alguns índices são analisados para averiguar a subnutrição dos brasileiros, como mostram os gráficos a seguir:





Assim, verifica-se que os índices foram reduzidos ao longo dos anos, e que continuam diminuindo constantemente. Essa redução nos casos de baixo peso e baixa estatura entre as crianças se deve às melhorias na qualidade de vida populacional, as quais são em parte ocasionadas pelas políticas de benefícios dos governos mais recentes.

Por muitos anos houve um massivo fluxo migratório interno no país, ocasionado pela busca por condições melhores de vida em centros mais desenvolvidos. As migrações mais conhecidas são as dos nordestinos, os quais migravam (e ainda migram) para fugir da precariedade em que vivem, especialmente em relação aos recursos hídricos, mas também na falta de perspectiva de futuro para os jovens. Outras migrações de significativo porte também ocorreram no Brasil, como as dos agricultores do sul do Brasil em direção aos estados Centro-Oeste e Norte, em busca das terras vendidas por preços mais baixos do que em seus estados de origem. Diferentemente de outros países, nos quais as migrações ocorrem devido às guerras ou catástrofes naturais, no Brasil a maioria das migrações ocorre devido à inconstância econômica. Veja as principais correntes migratórias no Brasil na década 2000:

Atualmente, o Brasil tem passado por intensas transformações, como o crescimento econômico advindo das exportações. Além disso, medidas governamentais têm elevado a qualidade de vida dos brasileiros, por meio dos programas e projetos de distribuição de renda. Outro avanço significativo é quanto ao número de pessoas que deixaram de ser analfabetas, e outras tantas que puderam ingressar em um curso superior. Estas medidas são importantes para o



desenvolvimento da sociedade, e o aumento dos níveis de qualidade de vida das pessoas. Milhões de brasileiros têm saído da miséria, e os avanços têm sido percebidos em diversos setores no Brasil.

“Os efeitos desses avanços já são sentidos no Brasil. Como sabemos, a expectativa de vida de sua população tem aumentado significativamente. Esse fato reflete, em suma, forte melhoria da qualidade de vida em nosso país.” (TAMDJIAN, 2012, p. 190)

Assim, por maiores que tenham sido as melhorias, o Brasil ainda apresenta diversos problemas que afetam a população, como a precariedade dos transportes e da saúde pública, a falta de moradias e as habitações em locais inapropriados, a violência e a criminalidade, a educação e as desigualdades sociais.

QUESTÕES SOBRE A POPULAÇÃO BRASILEIRA

1. Os últimos censos demográficos do Brasil têm registrado inúmeras mudanças na dinâmica e no comportamento da população brasileira. Todas as afirmações abaixo são exemplos destas alterações com exceção da(o):

- a) declínio das taxas de natalidade, fecundidade e mortalidade geral.
- b) aumento da população idosa no conjunto da população.
- c) crescimento da população e ameaça de explosão demográfica.
- d) elevação do número de pessoas empregadas no setor terciário.
- e) aumento da expectativa de vida.

2. Aos deslocamentos populacionais temporários relacionados às estações do ano ou às atividades econômicas, aplicamos o conceito de:

- a) Movimento Diurno.
- b) Movimento Noturno.
- c) Nomadismo.
- d) Transumância.
- e) Sedentarismo.



3. O período de maior crescimento vegetativo da população brasileira ocorreu:
- a) entre os anos de 1940 e 1970, devido ao rápido declínio das taxas de mortalidade e manutenção, em patamares elevados, das taxas de natalidade.
 - b) entre 1940 e 1972, devido à entrada de milhares de imigrantes no país.
 - c) entre os anos de 1960 e 1990, devido às mudanças estruturais ocorridas na economia brasileira.
 - d) nos primeiros anos do século XX, em decorrência das medidas sanitárias implantadas em todo o território nacional.
 - e) entre os anos de 1988 e 2008, em decorrência do planejamento familiar sugerido em nossa última Constituição Federal.
4. A população brasileira sempre teve um histórico de grande mobilidade desde a colonização. Cerca de um terço da população brasileira não reside onde nasceu. Entre as características da mobilidade da população nacional na década de 90, está a(o)
- a) queda do movimento migratório interno em direção ao Sudeste.
 - b) aumento do crescimento populacional de São Paulo, principal região atratora.
 - c) redução drástica da corrente migratória em direção à Amazônia.
 - d) involução dos municípios de médio e pequeno porte que tiveram suas populações atraídas pelas metrópoles.
 - e) grande onda migratória de sulistas em direção ao Nordeste.
5. Sobre a atual dinâmica demográfica brasileira, assinale a afirmativa correta:
- a) O Brasil está deixando de ser um país jovem.
 - b) A participação relativa dos idosos vem declinando desde a década de 1980.
 - c) O crescimento vegetativo compreendido entre 1940 e 1970, não foi afetado pela redução da mortalidade.
 - d) A migração é um dos fatores de maior impacto na composição atual da estrutura etária do Brasil.
 - e) A Taxa de mortalidade infantil equipara-se a dos padrões do conjunto dos países desenvolvidos.
6. As migrações _____ são realizadas temporariamente, em uma determinada época do ano. É o caso de trabalhadores rurais que se deslocam em certas épocas do ano (por exemplo na colheita de algum produto) e retornam após alguns meses, com o término do trabalho. O termo (deslocamento populacional) que completa corretamente o texto acima é:
- a) pendulares.
 - b) sazonais.
 - c) de êxodo rural.
 - d) intrarregionais.
 - e) inter-regionais
7. Assinale a alternativa que NÃO apresenta um dos motivos responsáveis pela concentração populacional no Brasil.



- a) Colonização concentrada em algumas faixas do território.
- b) Atividades econômicas mal distribuídas pelo espaço.
- c) Industrialização realizada primordialmente nos centros econômicos e de poder.
- d) Urbanização acelerada desde os tempos coloniais.
- e) Estabelecimento de oligarquias regionais que comandavam o território durante vários períodos da história brasileira.

8. As declarações oficiais dos diversos governos do Brasil, em torno da necessidade de povoar o território brasileiro; as concessões de legislação trabalhista brasileira, como salário-família, o auxílio maternidade etc. levam a concluir que o Brasil adota uma política demográfica:

- a) antinatalista.
- b) contrária ao crescimento vegetativo.
- c) natalista ou populacionista.
- d) Neomalthusiano.
- e) contrária à teoria de Malthus.

9. A população do Brasil é:

- a) regularmente distribuída, predominando os brancos e etariamente o jovem.
- b) irregularmente distribuída, predominando etnicamente o branco e etariamente o adulto.
- c) de elevado crescimento vegetativo, elevado nível cultural e com predominância étnica do negro.
- d) de grande crescimento vegetativo, etariamente jovem e com a predominância do branco
- e) de alto crescimento vegetativo, com predominância dos mestiços e elevado consumo de energia.

10. Sobre a 'população' a alternativa verdadeira é:

- a) A população relativa é o número total de habitantes de um local.
- b) Pode-se chamar uma área ou região de populosa quando ela possui uma grande população absoluta.
- c) As áreas anecumênicas são aquelas de grande concentração populacional. Geralmente são áreas urbanas, de grande concentração industrial.
- d) Densidade demográfica é a divisão da população relativa pela área do local.
- e) As áreas onde a população absoluta é grande são chamadas de áreas de grande concentração populacional