

MATEMÁTICA

NOME: _____ 9º ANO

ATIVIDADE

ORIENTAÇÃO PARA REALIZAÇÃO DA ATIVIDADE: TEOREMA DE PITÁGORAS: O aluno deverá escrever no caderno a atividade, o título da atividade, a data, o exercício e a resolução. Ler a comanda e responder no caderno

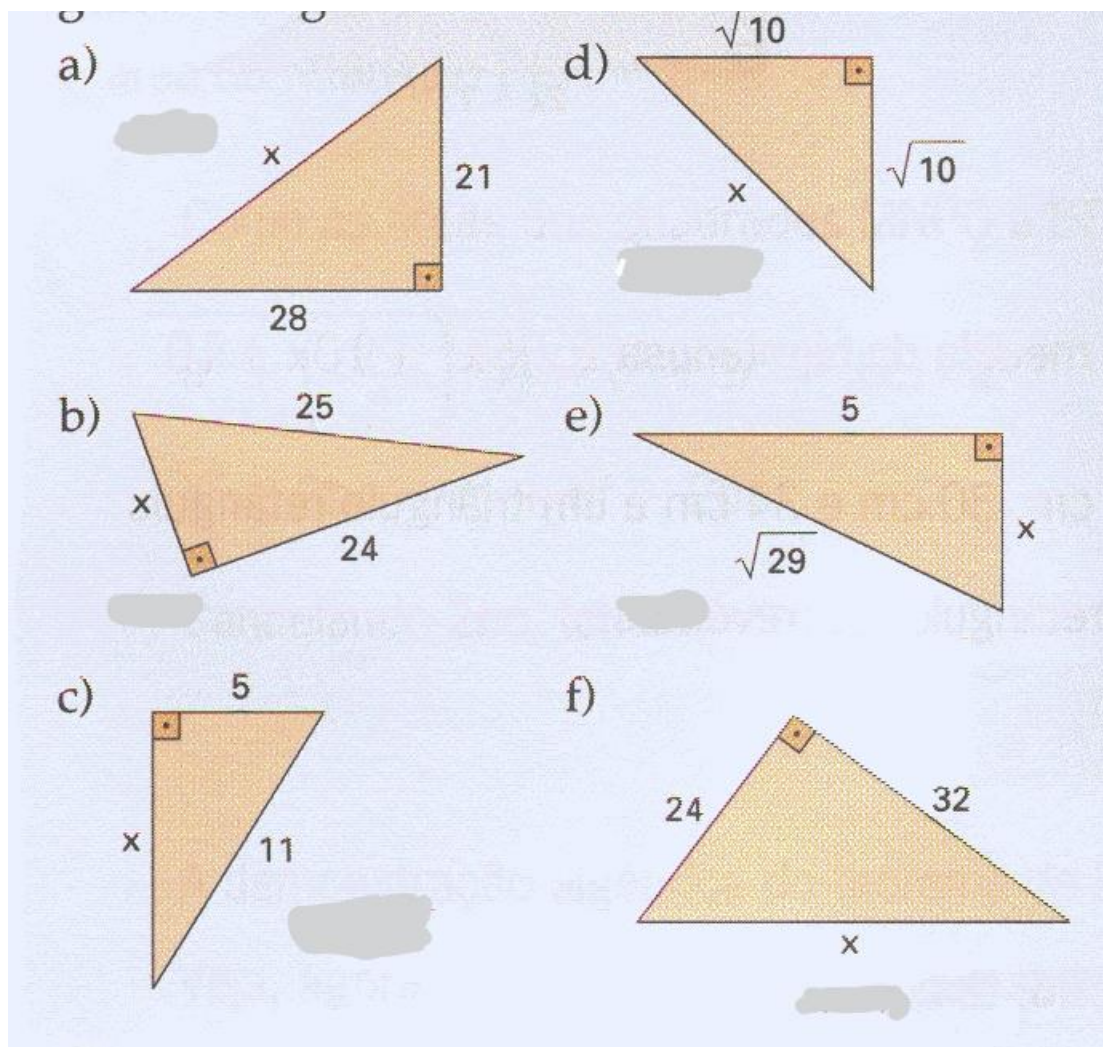
ASSISTA OS VÍDEOS:

<https://www.youtube.com/watch?v=PGPRh4JBIsg>

<https://www.youtube.com/watch?v=dUiiGW0Tw5M>

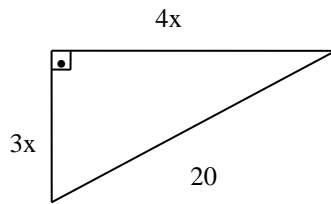
COPIAR E RESPONDER NO CADERNO.

1- Aplicando o Teorema de Pitágoras, determine a medida x indicada em cada um dos triângulos retângulos

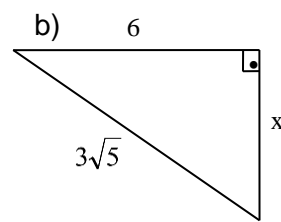


2- Utilizando o Teorema de Pitágoras, determine o valor de x nos triângulos retângulos:

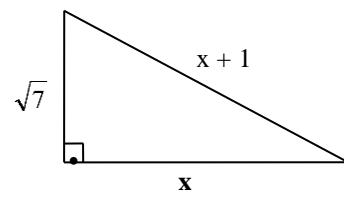
a)



b)



c)



d)

