



## MATEMÁTICA

NOME: \_\_\_\_\_ 1º ANO

### ATIVIDADE

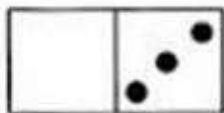
**ORIENTAÇÃO PARA REALIZAÇÃO DA ATIVIDADE:** O ALUNO PODERÁ ESCREVER NO CADERNO O TÍTULO DA ATIVIDADE E A DATA. CONSIDERANDO QUE NO 1º ANO ALGUNS ALUNOS AINDA NÃO REALIZAM A LEITURA COM AUTONOMIA, LEIA PARA ELE A COMANDA E SOLICITE QUE RESPONDA NO CADERNO.

1) PINTE SOMENTE O QUADRO COM A RESPOSTA CERTA.

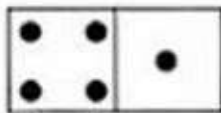
FATOS	RESPOSTAS		
$2 + 3 =$	5	4	3
$2 + 2 =$	3	4	5
$4 + 1 =$	4	2	5
$0 + 5 =$	5	4	0
$3 + 1 =$	3	5	4
$1 + 2 =$	2	5	3



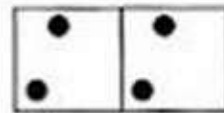
2) OBSERVE AS PEÇAS DO DOMINÓ E FAÇA AS ADIÇÕES NA FORMA **HORIZONTAL**. VEJA O MODELO.



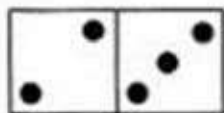
$$0 + 3 = 3$$



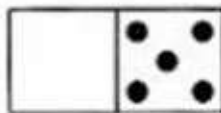
$$\dots + \dots = \dots$$



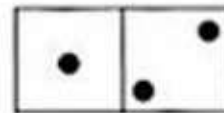
$$\dots + \dots = \dots$$




$$\dots + \dots = \dots$$



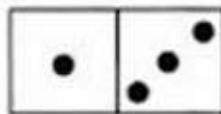
$$\dots + \dots = \dots$$



$$\dots + \dots = \dots$$



$$\dots + \dots = \dots$$



$$\dots + \dots = \dots$$

