



MATEMÁTICA

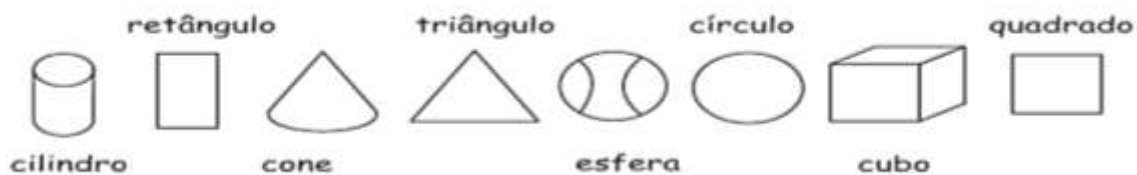
NOME: _____ 4º ANO

ATIVIDADE

ORIENTAÇÃO PARA REALIZAÇÃO DA ATIVIDADE: O aluno poderá escrever no caderno o título da atividade e a data. Ler a comanda e responder no caderno.

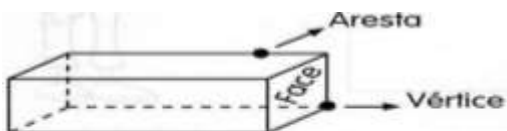
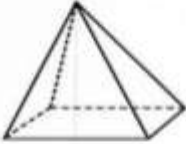
1- VAMOS SEPARAR OS SÓLIDOS GEOMÉTRICO E AS FIGURAS PLANAS DESENHANDO NO QUADRO ABAIXO.

Sólidos geométrico ≠ Figuras planas

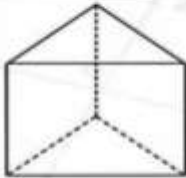


| | |
|---------------------|----------------|
| sólidos geométricos | Figuras planas |
|---------------------|----------------|

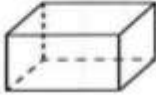
2- OBSERVE O EXEMPLO DO POLIÉDROS E COMPLETE.

Nome: _____
 Quantas faces? _____
 Quantas arestas? _____
 Quantos vértices? _____



Nome: _____
 Quantas faces? _____
 Quantas arestas? _____
 Quantos vértices? _____



Nome: _____
 Quantas faces? _____
 Quantas arestas? _____
 Quantos vértices? _____



Nome: _____
 Quantas faces? _____
 Quantas arestas? _____
 Quantos vértices? _____



Nome: _____
 Quantas faces? _____
 Quantas arestas? _____
 Quantos vértices? _____

