

MATEMÁTICA

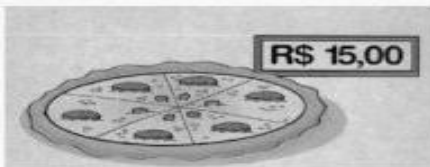
ATIVIDADE 1

NOME: _____ 3ª e 4ª séries


ORIENTAÇÃO PARA REALIZAÇÃO DA ATIVIDADE: Copiar as atividades no caderno e responder.

1. Resolva estes problemas.

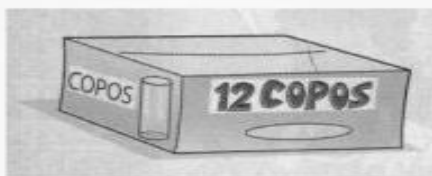
- Quantos pedaços de pizza haverá em 6 pizzas iguais a esta?
- Tio Fernando comprou 3 pizzas. Quanto ele gastou?



- Marcelo comprou 30 caixas com uma dúzia de ovos cada uma. Ele levou mais ou menos que 400 ovos?
- Ele vai vender cada caixa por R\$3,00. Quanto receberá se vender todas as caixas?



- Cada caixa tem 12 copos. Quantos copos haverá em 8 caixas?
- Cada caixa é vendida a R\$30,00. Quanto custarão as 8 caixas?



ATIVIDADE 2

Resolva os problemas, apresentando operações e resposta no caderno.

1. Luciana nasceu em 1964 e tem um irmão 9 anos mais velho.
Em que ano nasceu o irmão de Luciana?
2. Quando Bete nasceu, seu pai tinha 33 anos. Que idade Bete terá quando seu pai tiver 69 anos?
3. A soma de dois números é igual a 5.129. Se um número é 2.375, qual é o outro?
4. Papai nasceu em 1970. Qual a idade dele no ano atual?
5. Mamãe nasceu em 1975. Sabendo que Papai é 12 anos mais velho que ela, em que ano Papai nasceu?
6. A diferença de idade entre Papai e vovô é de 26 anos.
Sabendo que Papai nasceu em 1966, em que ano vovô nasceu?
7. A diferença de idade entre mim e meu irmão mais novo é de 7 anos. Sabendo que meu irmão nasceu em 2000, responda:
 - a) Em que ano eu nasci?
 - b) Quantos anos eu tenho atualmente?