

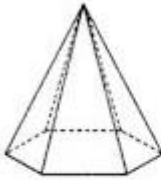
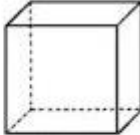

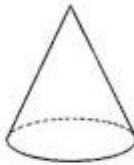
MATEMÁTICA

NOME: _____ 2º ANO

ATIVIDADE 1

ORIENTAÇÃO PARA REALIZAÇÃO DA ATIVIDADE: SÓLIDOS GEOMÉTRICOS: O ALUNO PODERÁ ESCREVER NO CADERNO O TÍTULO DA ATIVIDADE E A DATA. LER A COMANDA E RESPONDER NO CADERNO.

1- ENCONTRE O NOME DOS SÓLIDOS GEOMÉTRICOS:

P	I	R	Â	M	I	D	E
C	R	A	H	M	A	Â	Ç
I	Ç	R	C	O	S	T	O
L	L	P	C	V	A	B	N
I	O	X	C	U	B	O	J
N	G	G	R	Â	M	E	O
D	Ç	C	U	B	A	Z	N
R	I	R	O	À	G	E	H
O	E	R	V	C	O	N	E

2- QUAL SÓLIDO GEOMÉTRICO A BOLA LEMBRA?

CONE () PIRÂMIDE () ESFERA () CUBO ()

MATEMÁTICA

NOME: _____ 2º ANO

ATIVIDADE 2

ORIENTAÇÃO PARA REALIZAÇÃO DA ATIVIDADE: O ALUNO PODERÁ ESCREVER NO CADERNO O TÍTULO DA ATIVIDADE E A DATA. LER A COMANDA E RESPONDER NO CADERNO.

1 - OBSERVE ESTA SEQUÊNCIA NUMÉRICA, QUE SEGUE UM PADRÃO. QUAL É O PADRÃO DESSA SEQUÊNCIA? ESCREVA OS NÚMEROS QUE ESTÃO FALTANDO PARA COMPLETÁ-LA.

102	105	108			117				129	132
-----	-----	-----	--	--	-----	--	--	--	-----	-----

2 - APÓS FAZER UMA PESQUISA, ANA ANOTOU NA TABELA ABAIXO O TEMPO DE DECOMPOSIÇÃO NA NATUREZA DE ALGUNS MATERIAIS. ORGANIZE A TABELA DE ANA, ESCREVENDO O TEMPO DE DECOMPOSIÇÃO DOS MATERIAIS NA NATUREZA DO MENOR PARA O MAIOR.

MATERIAIS	TEMPO DE DECOMPOSIÇÃO
COPO PLÁSTICO	50 ANOS
CHICLETE	5 ANOS
RESTOS DE FRUTAS	1 ANO
MADEIRA PINTADA	15 ANOS
LATA DE CONSERVA	100 ANOS

DISPONÍVEL EM: <<http://www.portalsaofrancisco.com.br/meio-ambiente/decomposicao-do-lixo>>. ACESSO EM: 11 DEZ 2017.

MATERIAIS	TEMPO DE DECOMPOSIÇÃO