



MATEMÁTICA


NOME: _____ 1º ANO

ATIVIDADE

ORIENTAÇÃO PARA REALIZAÇÃO DA ATIVIDADE: RESOLVENDO SITUAÇÕES-PROBLEMAS: O ALUNO PODERÁ ESCREVER NO CADERNO O TÍTULO DA ATIVIDADE E A DATA. CONSIDERANDO QUE NO 1º ANO ALGUNS ALUNOS AINDA NÃO REALIZAM A LEITURA COM AUTONOMIA, LEIA PARA ELE A COMANDA E SOLICITE QUE RESPONDA NO CADERNO.


1. CAMILA GANHOU 4 LIVROS. JÁ LEU 1. QUANTOS LIVROS AINDA FALTAM PARA CAMILA TERMINAR DE LER TODOS OS LIVROS?

$$\square - \square =$$



2. O PAI DE LARA COMPROU 7 LÁPIS. ELA JÁ USOU 2 LÁPIS. QUANTOS LÁPIS SOBRARAM?


$$\square - \square =$$





3. ANA CLARA COMPROU 6 BALAS. E JÁ CHUPOU 4. QUANTAS BALAS SOBRARAM?

$$\square - \square =$$



4. NA FAZENDA DA TIA CLARICE TEM 6 PASSARINHOS NA GAIOLA. NESSE FINAL DE SEMANA FUGIRAM 3. QUANTOS PASSARINHOS FICARAM?

$$\square - \square =$$

