

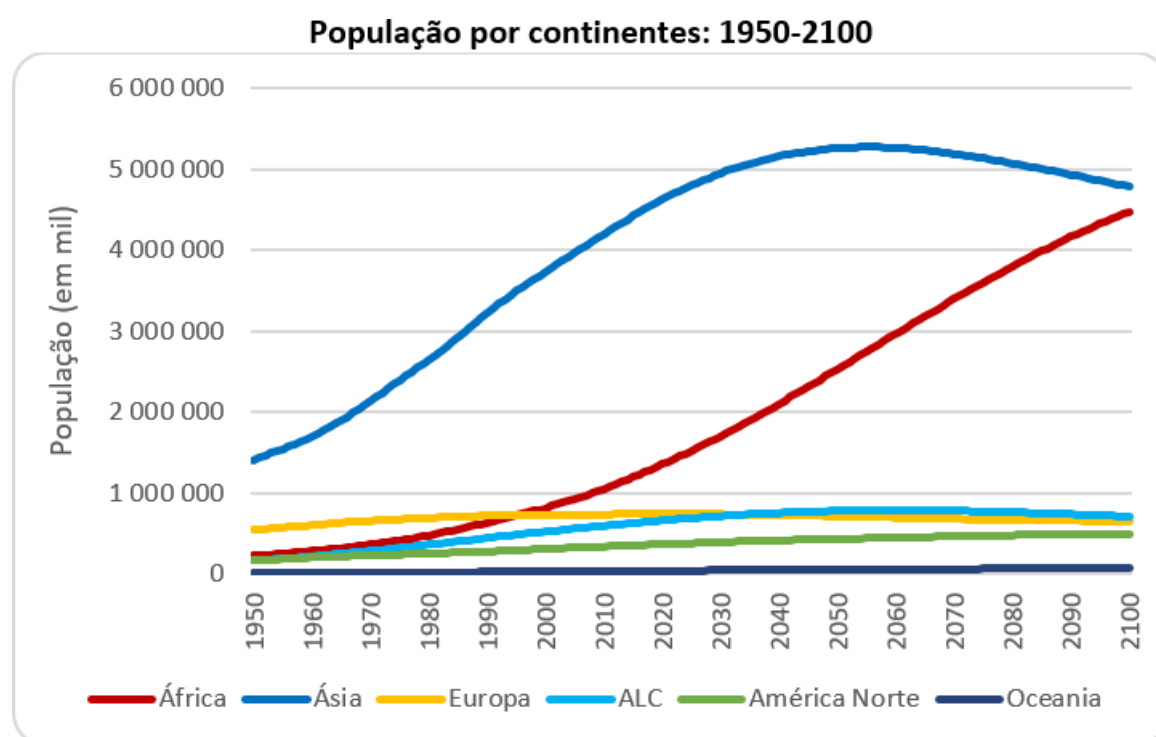


Geografia

Nome: _____ **8º ANO**

Orientação para realização das atividades: anote as questões/ enunciados no caderno e responda, se a questão for de múltipla escolha copie apenas a(s) resposta(s) correta(s), caso haja texto faça apenas a leitura e não precisa copiar nenhum texto.

Crescimento Populacional dos Continentes: 1950- 2100.



Fonte: UN/ESA: <https://esa.un.org/unpd/wpp/Graphs/DemographicProfiles/>

[EcoDebate] A população mundial era de 2,5 bilhões de habitantes em 1950, passou para 7,5 bilhões em 2017 e deve atingir 11,2 bilhões em 2100, segundo a projeção média da Divisão de População da ONU. A população global mais que quadruplicou em 150 anos. Mas este crescimento se deu de forma diferenciada nos continentes.

A África tinha 229 milhões de habitantes em 1950, chegou a 1,25 bilhão em 2017 e deve atingir 4,5 bilhões de habitantes em 2100. No mesmo período a Ásia, o continente mais populoso, passou de 1,4 bilhão, para 4,5 bilhões e deve chegar a 4,8 bilhões de habitantes no final do século. A América Latina e Caribe (ALC) que tinha somente 169 milhões de habitantes em 1950, passou para 646 milhões em 2017 e deve alcançar 712 milhões de habitantes em 2100.

A América do Norte (Estados Unidos e Canadá) tinham uma população um pouco maior do que a ALC em 1950, de 173 milhões de habitantes, chegou a 361 milhões em 2017 e deve alcançar 500 milhões em 2100. A Europa tinha o terceiro contingente populacional em 1950, com 549 milhões de habitantes, chegou a 742 milhões em 2017 e deve cair para 653 milhões em 2100. A Oceania tinha somente 13 milhões de

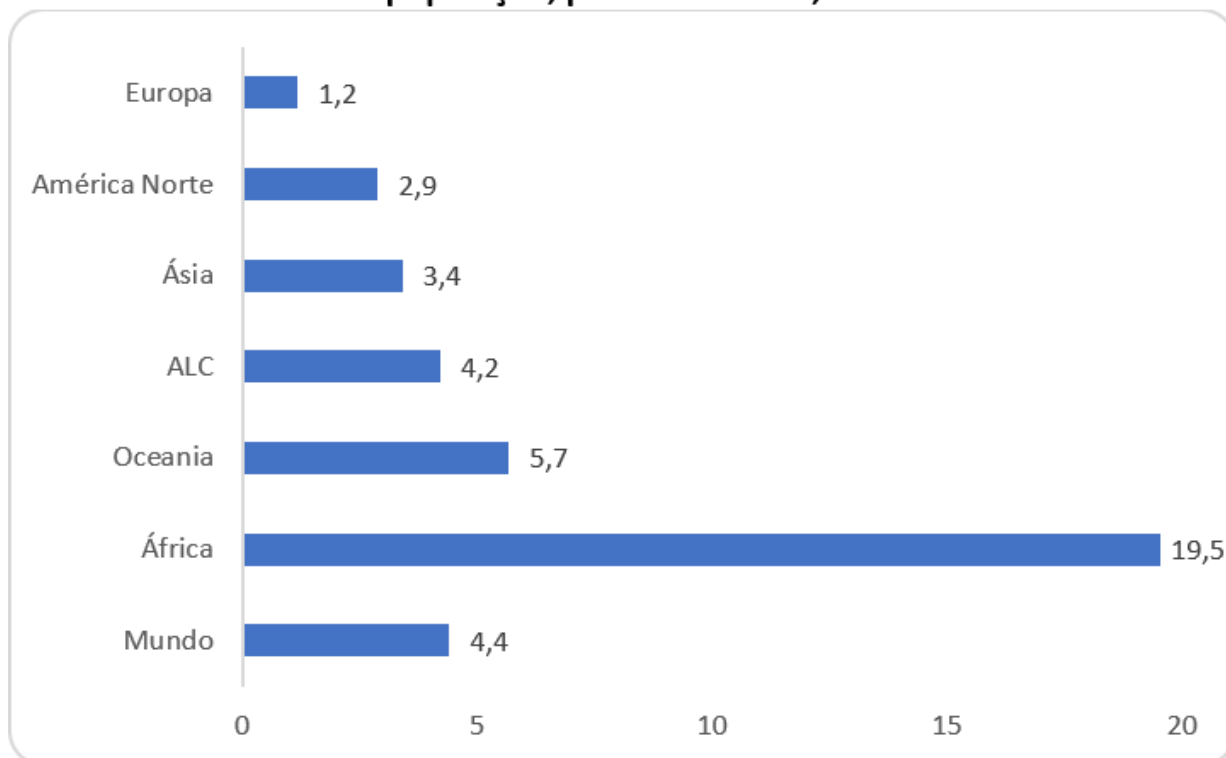


habitantes em 1950, passou para 41 milhões em 2017 e deve ficar com 72 milhões de habitantes em 2100.

O gráfico abaixo mostra que o crescimento entre 1950 e 2100 foi de 4,4 vezes na população mundial. A Europa será o continente com menor acréscimo, crescendo apenas 20% nestes 150 anos. A América do Norte deve apresentar crescimento de 2,9 vezes. A América Latina e Caribe (ALC) ultrapassou a América do Norte com o crescimento de 4,2 vezes. A Oceania cresceu muito, 5,7 vezes, mas como tinha uma população base muito pequena, continua sendo o continente com menor volume demográfico.

A Ásia que era o continente com o maior volume populacional (representava 55% da população global) deve crescer 3,4 vezes nestes 150 anos, mas deve chegar a uma participação de 42,7% em 2100. Já a África será o continente com maior crescimento, aumentando em 19,5 vezes o seu volume populacional. Em 1950, a África representava somente 9% da população global e deve passar para 40% em 2100.

Crescimento da população, por continentes, entre 1950 e 2100



Fonte: UN/ESA: <https://esa.un.org/unpd/wpp/Graphs/DemographicProfiles/>

Em 65 anos, entre 1950 e 2015, o mundo acrescentou quase 5 bilhões de pessoas. Nos próximos 85 anos deve acrescentar outros 4 bilhões de indivíduos. O ritmo de crescimento demográfico está diminuindo. Apesar de todo este crescimento populacional, o padrão de vida humano melhorou bastante. Mesmo considerando que há muitas desigualdades sociais, houve redução geral da mortalidade infantil e aumento da esperança de vida.

Porém, todo o progresso humano ocorreu às custas do retrocesso ambiental. Atualmente a humanidade já ultrapassou a capacidade de carga da Terra e a cada dia a Pegada Ecológica cresce mais do que a Biocapacidade. Também já ultrapassou 4 das 9 fronteiras planetárias. Isto mostra que os desafios para as próximas décadas será



imenso, pois as pessoas dependem da natureza e, como a natureza não depende das pessoas, pode haver escassez ecológica para tanta demanda humana.

José Eustáquio Diniz Alves, Colunista do Portal Eco Debate, é Doutor em demografia e professor titular do mestrado e doutorado em População, Território e Estatísticas Públicas da Escola Nacional de Ciências Estatísticas – ENCE/IBGE; Apresenta seus pontos de vista em caráter pessoal. E-mail: jed_alves@yahoo.com.br

in EcoDebate, ISSN 2446-9394, 16/07/2018

O crescimento populacional dos continentes: 1950-2100, artigo de José Eustáquio Diniz Alves, in *Ec o Debate*, ISSN 2446-9394, <https://www.ecodebate.com.br/2018/07/16/o-crescimento-populacional-dos-continentes-1950-2100-artigo-de-jose-eustaquio-diniz-alves/>.

[CC BY-NC-SA 3.0][O conteúdo da Eco Debate pode ser copiado, reproduzido e/ou distribuído, desde que seja dado crédito ao autor, à Eco Debate e, se for o caso, à fonte primária da informação]

Inclusão na lista de distribuição do Boletim Diário da revista eletrônica Eco Debate, ISSN 2446-9394,

Caso queira ser incluído(a) na lista de distribuição de nosso boletim diário, basta enviar um e-mail para newsletter_ecodebate+subscribe@googlegroups.com. O seu e-mail será incluído e você receberá uma mensagem solicitando que confirme a inscrição.

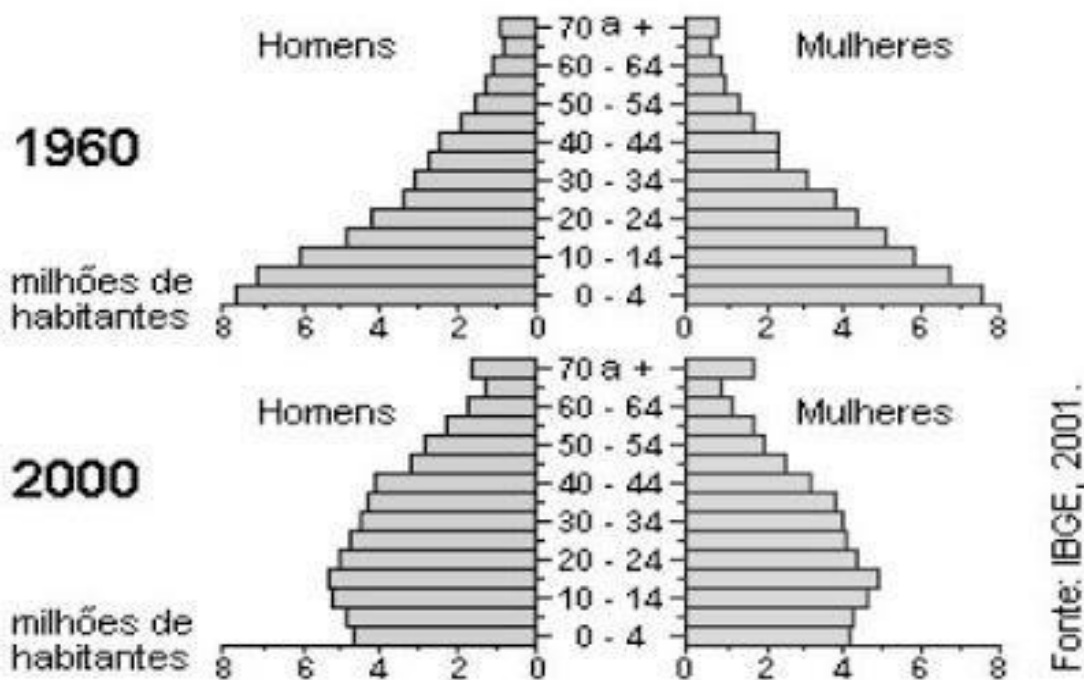
O Eco Debate não pratica SPAM e a exigência de confirmação do e-mail de origem visa evitar que seu e-mail seja incluído indevidamente por terceiros.

Remoção da lista de distribuição do Boletim Diário da revista eletrônica Eco Debate

Para cancelar a sua inscrição neste grupo, envie um e-mail para newsletter_ecodebate+unsubscribe@googlegroups.com ou ecodebate@ecodebate.com.br. O seu e-mail será removido e você receberá uma mensagem confirmando a remoção. Observe que a remoção é automática mas não é instantânea.

Questões

1-) Assinale a opção CORRETA em relação às mudanças nas pirâmides etárias do Brasil:



- (a) O aumento significativo, na faixa de 15-19 anos, nesse período, foi decorrente da diminuição da mortalidade infantil deste período.
- (b) A diminuição significativa na base da pirâmide, deve-se a diminuição da expectativa de vida.
- (c) A base mais estreita da pirâmide de 2000, quando comparada com a de 1960, indica uma redução na taxa de natalidade.
- (d) O alargamento do topo da pirâmide de 2000 indica um decréscimo da expectativa de vida da população brasileira.