

## GEOGRAFIA


ALUNO: \_\_\_\_\_ 6º ANO

**Orientação para realização da realidade:** anote as questões/ enunciados no caderno e responda, se a questão for de múltipla escolha copie apenas a(s) resposta(s) correta(s), caso haja texto faça a leitura e não precisa copiar nenhum texto.

1-) **Observe o desenho e aponte os Pontos Cardeais tendo com base onde o Sol nasce.**



2-) **Identifique no globo abaixo os principais paralelos e o principal meridiano:**



- Trópico de Câncer.
- Trópico de Capricórnio.
- Linha do Equador.
- Círculo Polar Ártico.
- Círculo Polar Antártico
- Meridiano de Greenwich

3-) **Relacione:**

(1) Paralelos (2) Linha do Equador (3) Meridianos (4) Meridiano de Greenwich

- ( ) Divide o planeta Terra em duas partes.
- ( ) São linhas imaginárias traçadas de norte e sul.
- ( ) São linhas imaginárias que se encontram paralelas à linha do Equador.
- ( ) É o principal meridiano terrestre. Ele divide nosso planeta em duas partes. Hemisfério Oeste e Hemisfério Leste.

4) Leia os textos e responda as questões 1, 2 e 3.

**A TERRA**

A Terra é redonda, tem a forma esférica com um leve achatamento nos polos. Não vivemos sozinhos na Terra, nela vivem animais, plantas e muitos seres diferentes.


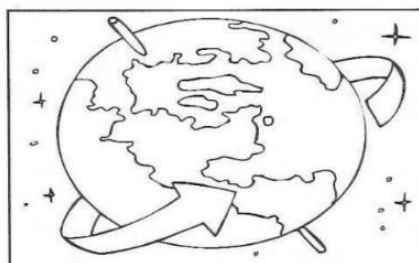
Podemos representar a Terra através de globos e mapas:



A Terra não fica parada, ela está sempre em movimento. São dois os movimentos da Terra: rotação e translação.

**ROTAÇÃO:** é o movimento que a Terra faz ao redor de si mesma. Ela gira como um pião. Desse movimento resultam os **DIAS** e as **NOITES**. Cada volta leva 24 horas ou 1 dia.

**TRANSLAÇÃO:** é o movimento que a Terra faz ao redor do Sol. Essa grande volta leva 365 dias e 6 horas ou 1 ano. Essas 6 horas que restam, no fim de 4 anos, fazem 24 horas ou 1 dia, totalizando 366 dias. Este ano é chamado de **BISSEXTO**. O dia formado nos anos bissextos é incluído no mês de fevereiro, que passa a ter então 29 dias.



1- PARTINDO DO TEXTO ACIMA, MARQUE F PARA FALSO E V PARA VERDADEIRO:

- ( ) Translação é o movimento que a Terra faz em torno de si mesma.
- ( ) Rotação é o movimento que a Terra faz em torno do Sol.
- ( ) O dia formado no ano bissexto é 29 de março.
- ( ) Rotação é o movimento que a Terra faz em torno de si mesma.
- ( ) Translação é o movimento que a Terra faz em torno do Sol.
- ( ) O Ano bissexto tem 366 dias.
- ( ) Podemos representar a Terra através de globos e mapas.

2- COLOQUE AS PALAVRAS ABAIXO EM ORDEM ALFABÉTICA:

**TRANSLAÇÃO – ROTAÇÃO – TERRA – BISSEXTO – SOL – NOITE – DIA – MAPA – GLOBO**

3- ADIVINHE O QUE É:

- a) Sou o movimento que resultam os dias e as noites. Sem mim você não teria lindos dias para brincar e calmas noites para descansar. Quem sou eu?
- b) Sou o movimento que a Terra faz em torno do Sol, e a cada 4 ano você ganha um dia a mais no mês de fevereiro. Quem sou eu?
- c) Eu represento o planeta Terra de forma planificada, ou seja, sou a desenho da Terra em um grande papel. Quem sou eu?