











MATEMÁTICA

ATIVIDADE 1

NOME: _____ 3º ANO

ORIENTAÇÃO PARA REALIZAÇÃO DA ATIVIDADE: REGISTRO DE TEMPO: O ALUNO PODERÁ ESCREVER NO CADERNO A ATIVIDADE O TÍTULO DA ATIVIDADE E A DATA OU IMPRIMIR. LER A COMANDA E RESPONDER NO CADERNO.

FAÇA NO RELÓGIO OS PONTEIROS REGISTRANDO A HORA INDICADA AO LADO.

	8h:45min		1h:50min
	12h:15min		11h:10min
	10h:5min		6h:00min
	4h:30min		8h:40min



MATEMÁTICA

ATIVIDADE 2

NOME: _____ 3º ANO

ORIENTAÇÃO PARA REALIZAÇÃO DA ATIVIDADE: SITUAÇÃO-PROBLEMA: O ALUNO PODERÁ ESCREVER NO CADERNO A ATIVIDADE O TÍTULO DA ATIVIDADE E A DATA OU IMPRIMIR. LER A COMANDA E RESPONDER NO CADERNO.

Rute e sua irmã juntas tem 32 bonecas. A irmã de Rute tem 11. Quantas bonecas Rute tem?

