



MATEMÁTICA

ATIVIDADE 1











NOME: _____ 1º ANO

ORIENTAÇÃO PARA REALIZAÇÃO DA ATIVIDADE: REALIZAR A SEQUÊNCIA NUMÉRICA PARA DESCOBRIR OS NÚMEROS ESCONDIDOS EM CADA SÍMBOLO: O ALUNO PODERÁ ESCREVER NO CADERNO O TÍTULO DA ATIVIDADE E A DATA. CONSIDERANDO QUE NO 1º ANO ALGUNS ALUNOS AINDA NÃO REALIZAM A LEITURA COM AUTONOMIA, LEIA PARA ELE A COMANDA E SOLICITE QUE RESPONDA NO CADERNO

DESCOBRINDO O NUMERAL

1 DESCUBRA, NO QUADRO, OS NUMERAIS QUE ESTARIAM NO LUGAR DOS SÍMBOLOS E ESCREVA-OS ABAIXO.

1	2	3		5	6	7	
9	10	11	12		14	15	16
	18	19		21	22	23	
25		27	28	29		31	32
33	34		36	37	38		40

	<input type="text"/>		<input type="text"/>		<input type="text"/>
	<input type="text"/>		<input type="text"/>		<input type="text"/>
	<input type="text"/>		<input type="text"/>		
	<input type="text"/>		<input type="text"/>		





MATEMÁTICA

ATIVIDADE 2

NOME: _____ 1º ANO

ORIENTAÇÃO PARA REALIZAÇÃO DA ATIVIDADE: COMPARAR COMPRIMENTOS, UTILIZANDO TERMOS COMO MAIS ALTO, MAIS BAIXO: O ALUNO PODERÁ ESCREVER NO CADERNO O TÍTULO DA ATIVIDADE E A DATA. CONSIDERANDO QUE NO 1º ANO ALGUNS ALUNOS AINDA NÃO REALIZAM A LEITURA COM AUTONOMIA, LEIA PARA ELE A COMANDA E SOLICITE QUE RESPONDA NO CADERNO

OBSERVE AS IMAGENS A SEGUIR. ASSINALE A ALTERNATIVA QUE MOSTRA A PESSOA MAIS ALTA.



A



B



C