

MATEMÁTICA

ATIVIDADE 1











NOME: _____ 1º ANO

ORIENTAÇÃO PARA REALIZAÇÃO DA ATIVIDADE: SEQUÊNCIA NUMÉRICA: O aluno poderá escrever no caderno o título da atividade e a data. Observar o quadro e anotar as respostas no caderno.

DESCOBRINDO O NUMERAL

1) DESCUBRA, NO QUADRO, OS NUMERAIS QUE ESTARIAM NO LUGAR DOS SÍMBOLOS E ESCREVA-OS ABAIXO.

1	2	3		5	6	7	
9	10	11	12		14	15	16
	18	19		21	22	23	
25		27	28	29		31	32
33	34		36	37	38		40

	<input type="text"/>		<input type="text"/>		<input type="text"/>
	<input type="text"/>		<input type="text"/>		<input type="text"/>
	<input type="text"/>		<input type="text"/>		
	<input type="text"/>		<input type="text"/>		