



MATEMÁTICA

ATIVIDADE 1

NOME: _____ EJINHA




ORIENTAÇÃO PARA REALIZAÇÃO DA ATIVIDADE: SITUAÇÃO PROBLEMA- RESOLVA AS ATIVIDADES

Situações problema com dinheiro

1- Quero comprar uma calça que custa R\$ 60,00. Tenho R\$15,00. Quanto ainda falta para juntar para comprar a calça?

a) R\$ 30,00
b) R\$ 15,00
c) R\$ 45,00
d) R\$ 50,00



2- Minha tia disse que tem as seguintes notas para gastar nas lojas da cidade:


Qual é a quantia que minha tia tem no total?

a) R\$ 62,00
b) R\$ 72,00
c) R\$114,00
d) R\$112,00

3- Conte as notas e descubra o total da quantia em dinheiro:

O total é _____

4- Comprei uma mochila por R\$43,00. Paguei com uma nota de . Quanto recebi de troco?

a) R\$ 10,00
b) R\$ 9,00
c) R\$ 7,00
d) R\$ 6,00