




## MATEMÁTICA

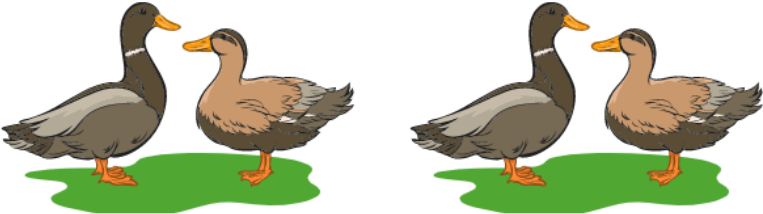
### ATIVIDADE 1


NOME: \_\_\_\_\_ 1º ANO

**ORIENTAÇÃO PARA REALIZAÇÃO DA ATIVIDADE: CONTAGEM:** O aluno poderá escrever no caderno o título da atividade e a data. Considerando que no 1º ano alguns alunos ainda não realizam a leitura com autonomia, leia para ele a comanda e solicite que responda no caderno.

ESCREVA A QUANTIDADE DE CADA GRUPO ABAIXO:

	
--	--

	
--	--

	
--	--










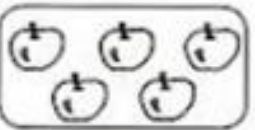










## MATEMÁTICA

### ATIVIDADE 2

NOME: \_\_\_\_\_ 1º ANO

**ORIENTAÇÃO PARA REALIZAÇÃO DA ATIVIDADE: CÁLCULO:** O aluno poderá escrever no caderno o título da atividade e a data. Considerando que no 1º ano alguns alunos ainda não realizam a leitura com autonomia, leia para ele a comanda e solicite que responda no caderno.

FAÇA AS ADIÇÕES DOS CONJUNTOS DE ACORDO COM O EXEMPLO

	+		=	
<u>4</u>		<u>1</u>		<u>5</u>
	+		=	
<u>    </u>		<u>    </u>		<u>    </u>
	+		=	
<u>    </u>		<u>    </u>		<u>    </u>
	+		=	
<u>    </u>		<u>    </u>		<u>    </u>
	+		=	
<u>    </u>		<u>    </u>		<u>    </u>
	+		=	
<u>    </u>		<u>    </u>		<u>    </u>
<u>    </u>	+	<u>    </u>	=	<u>    </u>